

10. b kategorija
10. b kategorija

grupa B



Drniš, 26. i 27. travnja 2025

Ime i prezime: _____

1.a) Prepoznaaj i napiši veličinu i vrstu zadanih intervala:

12 bodova



b) U melodijskom primjeru prepoznaaj, označi i napiši vrstu trozvuka:

12 bodova



2. a) U zadanom melodijskom primjeru prepoznaaj i napiši ime tonaliteta (primjer ne počinje i ne završava I. stupnjem):

12 bodova







10. b kategorija

b) U zadanom melodijskom primjeru odredi i napiši vrstu modusa:

12 bodova








3. Transkribiraj zadani melodijski primjer:

8 bodova



4. U zadanom melodijskom primjeru prepoznaj, obilježi i imenuj vrstu zadanog kromatskog akorda dijatonskog tipa:



18 bodova



10. b kategorija


5. Napiši mnogostranost zadanih septakorda:

14 bodova



6. U zadanom melodijskom primjeru prepoznaj, obilježi i imenuj vrstu zadanog tetrakorda:

12 bodova



_____od ukupno 100 bodova

Članovi ocjenjivačkog suda:

1. _____
2. _____
3. _____